

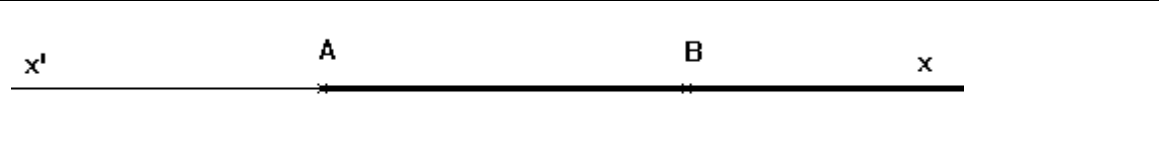
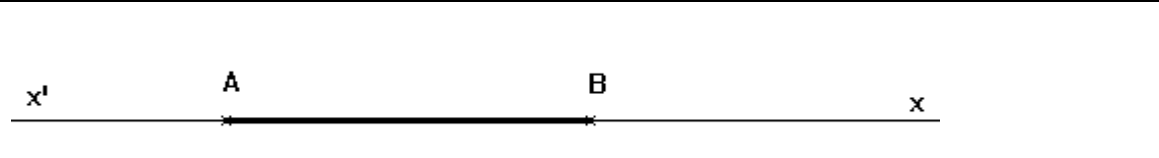


Exercice 1 : Ecrivez chacun des vecteurs suivants sous la forme d'un seul vecteur :

a) $\vec{BC} - \vec{BA} + \vec{BD} - \vec{BC}$

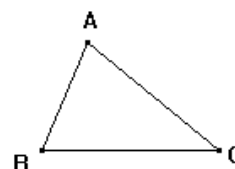
b) $(\vec{AB} + \vec{CD}) - (\vec{AB} - \vec{BC})$

c) $\vec{CD} - (\vec{FE} - \vec{GH}) - \vec{EH} - \vec{GF} - \vec{DK} + \vec{CK}$

Exercice 2 : A et B sont deux points fixés. k est un réel quelconque, et M le point tel que $\vec{AM} = k \vec{AB}$. Dans chacun des 4 cas suivants, indiquez à quel intervalle de \mathbb{R} appartient le réel k lorsque M parcourt la partie repassée en gras de la droite (AB)

	M appartient à la demi-droite [AB)
	M appartient au segment [AB]
	M appartient à la demi-droite [Bx)
	M appartient à la demi-droite [Ax')

Dans les exercices 3 à 10 : ABC est un triangle quelconque¹. Placer les points M et N définis par les égalités vectorielles : Attention, il faut souvent penser à modifier ces égalités à l'aide de la relation de Chasles.



Exercice 3 : a) $\vec{MA} = -2 \vec{BA}$

b) $\vec{NB} = \frac{3}{2} \vec{AB}$

Exercice 4 : a) $\vec{BM} = \frac{5}{4} \vec{AB}$

b) $\vec{NB} = -\frac{3}{2} \vec{AB}$

Exercice 5 : a) $\vec{MC} = 2 \vec{AB}$

b) $\vec{NA} + \vec{NB} = \vec{0}$

Exercice 6 : a) $\vec{MA} + 2 \vec{MB} = \vec{0}$

b) $2 \vec{NA} = 6 \vec{NB}$

Exercice 7 : a) $\frac{3}{4} \vec{MA} = \frac{7}{8} \vec{MB}$

b) $\frac{3}{2} \vec{AN} = \frac{1}{3} \vec{BN} = \vec{0}$

Exercice 8 : a) $\vec{MA} = -2 \vec{MA} + 3 \vec{MB}$

b) $-5 \vec{NA} + 4 \vec{NB} = 2 \vec{NA} + \vec{NB}$

Exercice 9 : a) $3 \vec{MA} - \vec{AB} = \vec{MB} + 2 \vec{AB}$

b) $\vec{BN} - \vec{AB} = \vec{AC}$

Exercice 10 : a) $2 \vec{MC} - \vec{MB} = \vec{AB}$

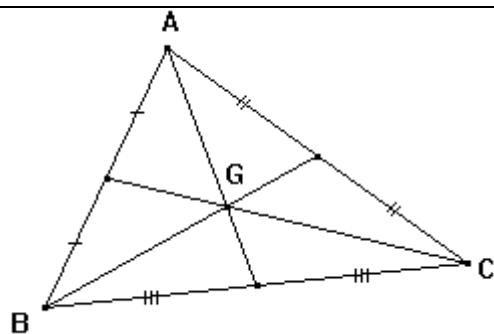
b) $\vec{NB} - 3 \vec{AB} = 2 \vec{CB}$

Exercice 11 : a) $2 \vec{AB} = \vec{MC} = 2 \vec{BC}$

b) $\vec{NA} + \vec{NB} + \vec{NC} = \vec{0}$

¹ Redessiner le triangle ABC pour chaque exercice.

A savoir : Dans un triangle ABC, le point G défini par $\vec{GA} + \vec{GB} + \vec{GC} = \vec{0}$ est le **centre de gravité** du triangle ABC. C'est le point d'intersection de ses médianes. Il est situé aux $\frac{2}{3}$ de chaque médiane en partant du sommet.

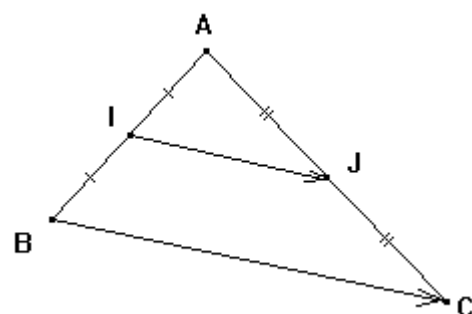


Exercice 12 : A, B, C, D sont 4 points.

- 1) Construisez le point M tel que $\vec{AM} = \vec{AB} + \vec{AC} - \vec{BC}$
- 2) Construisez le point N tel que $\vec{AN} = \vec{AB} - \vec{AC} + \vec{AD}$
- 3) Démontrez que $\vec{NM} = \vec{AC} + \vec{DB}$

Exercice 13 : Le théorème des milieux vectoriel peut s'énoncer ainsi :

Si, dans un triangle ABC, I est le milieu de [AB] et J celui de [AC], alors $\vec{IJ} = \frac{1}{2} \vec{BC}$
(ou encore $\vec{BC} = 2 \vec{IJ}$)



1) Démontrez ce théorème avec la relation de Chasles en décomposant les vecteurs \vec{IJ} et \vec{BC} à l'aide du point A.

2) Utiliser ce théorème pour démontrer que IJKL est un parallélogramme dans l'énoncé suivant : ABCD est un quadrilatère quelconque. I est le milieu de [AB], J celui de [BC], K celui de [CD] et L celui de [DA]. Prouver que IJKL est un parallélogramme.

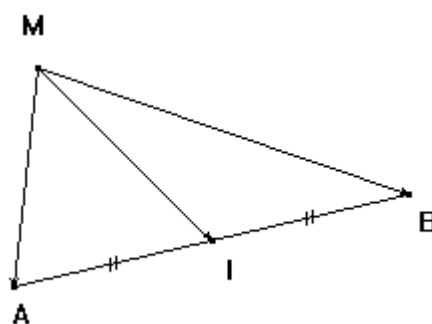
Exercice 14 : Théorème vectoriel de la médiane.

Si [AB] est un segment de milieu I, alors, pour tout point M du plan, on a la relation : $\vec{MA} + \vec{MB} = 2 \vec{MI}$

Nous allons démontrer ce théorème de 2 manières : Soient A, B, M trois points du plan et I le milieu de [AB].

Méthode 1 : Décomposer \vec{MI} de deux manières (à l'aide de A d'une part, de B d'autre part) avec la relation de Chasles, et additionner membre à membre les deux égalités trouvées.

Méthode 2 : Construire N, le symétrique de M par rapport à I, et considérer la nature du quadrilatère MANB. Exprimer ensuite \vec{MN} en fonction de \vec{MA} et \vec{MB} puis conclure.



Exercice 15 : EFGH est un parallélogramme de centre O. 1) Construire S et T tels que $\vec{OT} = \vec{OE} + \vec{OF}$ et $\vec{OS} = \vec{OG} + \vec{OH}$ 2) Prouver que $\vec{OT} + \vec{OS} = \vec{0}$. Qu'en déduisez-vous pour le point O ?